

پیام تبریک عید

سال نومی شود. زمین نفسی دوباره می کشد. برگ بار رنگ سبز در می آید و گل با بخت می زند و پرنده های خسته بر می گردند.

حلول سال نو بهار بر طراوت را که نشانی قدرت لایزال الهی و تجدید حیات طبیعت می باشد را به شما تبریک و تسنیت عرض نموده و سالی سرشار از برکت و موفقت را از درگاه خداوند متعال و سبحان برای شما خواهیم.

سخنی با والدین

پیکلی که در پیش رو دارید جهت تکرار تمرین بیشتر فرزند شما برای یادگیری بهتر در ایام تعطیلات نوروز می باشد که می بایست دانش آموزان آنها را صل کرده و در میان تعطیلات به آموزش کارم بوط تحویل دهند. ضمناً در طراحی

سوالات آن سعی شده تا فقط از مباحث کتاب استاده شود. لازم است تا برخی نکات را یادآوری کنیم:

- نوشتن و حل کردن تمرینات این یک مخصوص دانش آموز می باشد.
- از این یک بعد از تعطیلات نوروزی امتحان گرفته می شود.
- هر روز ساعت شخصی را برای انجام تکالیف قرار دهید و از انجام دادن تمام تکالیف دیک روز خودداری نایید.

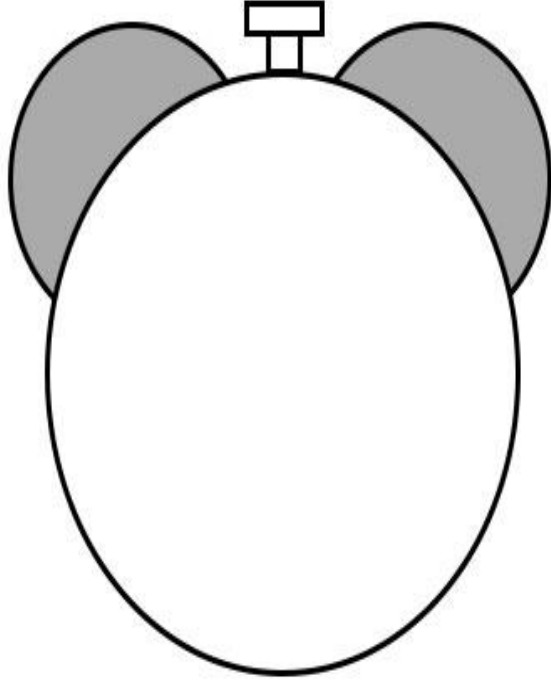
مقدمتہ سب سے پہلے
میں نے اپنے والدین کو مبارکباد پیش کی ہے



Page 8

عزیزم!

نخطی سال تحویل را روی ساعت نشان بده و بگو که در این نخط چه دعایی کردی؟



پسرم!

یک نقاشی زیبا از سفره‌ی هفت‌سین خودتان بکشید.

نمونه ی حل کردن جدول سودوکو

هر جدول از ۹ ستون تشکیل شده که هر ستون دارای ۹ ردیف است. در هر کلام از این خانه نباید اعداد ۱ تا ۹ تکرار کرد اما در پنج ردیف و ستونی نباید اعداد تکراری وجود داشته باشد.

		۹	۷		۳	۲	۴	۸
۷		۵	۲		۹	۶		۱
۲			۸			۹		۵
	۹		۳				۶	۲
		۷	۹	۸	۶	۱		
۸	۴				۲		۹	
۶		۲			۷			۹
۴		۸	۱		۵	۳		۶
۹	۵	۳	۶		۸	۴		

لطیفه:

اولی: کبری شاپرا همیشه جلوی تلویزیون می نشیند؟

دومی: چون می خواهد بداند که مدرسی موشکافی کنش می شود.

۱- در الگوی زیر به جای علامت سوال چه عددی را قرار می دهید؟

۴-۵-۹-۱۴-□

۲- الگوهای زیر را ادامه دهید.

۲۶۰۰-۲۸۰۰-۳۰۰۰- - - - -

- - - - - ۶۰۰۰-۶۵۰۰-۷۰۰۰

۸- - - - - ۵۶-۶۴- ۷۲

۲-۴-۷-۱۱- - - - -

۳- اگر امروز دو شنبه و ۱۷ ماه باشد . اولین دوشنبه این ماه چندم ماه بوده است؟

۴- فروشنده ای مدادی را که ۱۳۰ تومان خریده بود ۱۵۰ تومان فروخت . او از فروش ۶ مداد چند تومان سود می برد ؟

۵- علی از عدد ۳ ، چهار تا چهار تا شروع به شمردن کرد و تا عدد ۵۱ به جلو شمرد اعداد او را بنویسید .

۶- مشاهده کردن به چه معناست ؟

۷- جدول برنامه ی غذایی یک هفته خانه ی خود را بکش .

۸- چرا تو خدا را شکر می کنی ؟

۹- از درس اول هدیه های آسمانی به نام آستین های خالی چه نتیجه ای می گیری ؟ (۴ خط

بنویس)

.....

.....

.....

.....

۱۰- فرق اذان و اقامه را بنویس .

۱۱- کلمات زیر را با ات ، ها ، ان جمع ببند به طوری که جمع آنها معنا دار باشد ؟

تفریح :

مرد :

مسجد :

ورزش :

زن :

۱- بر روی دو ساعت زیر کارهای امروز خودت را بنویس .



ساعت در قبل از ظهر



ساعت در بعد از ظهر

۲- هواپیمایی به مقصد شیراز هر روز ساعت ۱۸ از تهران حرکت می کند و ساعت ۲۴ می رسد . این

هواپیما چند ساعت در آسمان بوده است ؟

۳- در درس زنگ ورزش کلماتی که دارای تشدید هستند را پیدا کن و بنویس .

۴- جاهای خالی را با کلمه های مناسب پر کنید .

من شنا

علی پیاده روی

آنها شمشیر بازی

تو دو چرخه سواری

شما مسابقه را تماشا

ما فوتبال بازی

۵- کامل کنید .

..... سینما را مکان فرهنگی می دانید .

..... مسجد را مکان دینی می دانیم .

۶- مخالف کلمه های زیر را بنویسید .

روز : گرم : غمگین : فایده :

باز : غروب : دوست : طلوع :

۷- دو مورد از تغییرات بدن ؛ تغییرات نیاز و تغییرات توانایی های خود را از تولد تا ۹ سالگی نام ببرید .

۸- شناسنامه ی هر کس نشان دهنده ی چیست ؟

۹- برای تشکر از خدا چه راه هایی می شناسید ؟

۱۰- از چه راههایی می توانیم درباره ی موضوع پژوهش اطلاعات جمع آوری کنیم ؟ (۳ مورد)

۱۱- بدن ما به چهار نوع ماده ی غذایی نیاز دارد . این چهار نوع را نام ببرید و برای هر

کدام یک مثال بزنید .

۱۲- خوردن غذاهای چرب و شور به بدن

الف - فایده دارد

ب (ضرر می رساند

ج) اثری ندارد

د) باعث تقویت بدن می شود .

۱- چه مواردی را بر روی بند نواری دور دست نوزاد می نویسند؟ (۳ مورد کافی است)

۲- شباهت انسانها در چه چیزی است و تفاوت آنها را بگویید.

۳- خانواده چگونه به وجود می آید؟

۴- چه دلایلی باعث می شود که اندازه ی خانواده کم و یا زیاد شود؟

دلایل کم شدن اندازه ی خانواده :

دلایل زیاد شدن اندازه ی خانواده :

۵- چه کسانی برای آسایش و تربیت فرزندان تلاش می کنند؟

۱) همسایه ها

۲) پدر

۳) مادر

۴) گزینه ی ب و ج

۶- برای کلمات زیر هم خانواده بنویس . (برای هر کدام ۲ هم خانواده)

صبر :

ناظم :

عالم :

۷- مکعب از ۶ و مکعب مستطیل از درست شده است.

۸- برای جمع ها و ضرب های زیر عبارت مناسب بنویسید .

$$۵+۵+۵+۵+۵ = (\times)$$

$$۹ \times ۷ =$$

۹- در جشن تولد سارا دوستانش ۵ بسته مداد رنگی به او هدیه دادند . اگر هر بسته ۲ مداد رنگی سبز باشد تعداد کل مداد رنگی های سبز سارا چند است ؟

۱۰- تمام جمع هایی که حاصل آنها برابر با ۱۰ است را بنویسید.

۱۱- حسن از کشور قندستان ۳ یور با خودش آورده است . اگر ارزش هر یورو ۲۳۰۰ تومان باشد . او چند تومان دارد؟

۱۲- جمله های زیر را مطابق زمان خواسته شده تغییر بده.

الف-برزگر کشتزار را درو کرد . (زمان حال)

ب - آنها به مشهد خواهند رفت . (زمان حال)

ج - لانه ی بلدرچین ها را می بینیم . (زمان گذشته)

د-دیروز به مدرسه رفتیم . (زمان آینده)

۱۳- محمد نقاش است . او می خواهد پنجره های دو ساختمان ۴ طبقه که هر طبقه ۶ پنجره دارد را رنگ کند . او چند پنجره را باید رنگ کند .

۱۴- در یک نماز چهار رکعتی چند بار رکوع ؛ سجده و قنوت می خوانیم ؟

۱- در جای خالی عدد مناسب بنویس .

۴۰۰۰ متر یعنی کیلومتر

۳ کیلو متر و ۴۰۰ متر یعنی متر

یک متر سانتی متر

۲- پرویز از پرهام پرسید ساعت چند است ؟ پرهام در جواب به او گفت : ۴ ساعت از بعد از

ظهر گذشته است . پرویز عدد ؟ را با ۴ جمع کرد و به جواب رسید .

پرویز چه عددی را با ۴ جمع کرد ؟

علت کار او را توضیح دهید ؟

۳- تمام عدد های سه رقمی را بنویسید که رقم یکان آن ها ۲ و ۴ و رقم دهگان آن ۵ و رقم

صدگانش ۳ و ۷ باشد ؟

۴- به چند حالت می توان با سکه های ۵۰ و ۱۰ ریالی سکه ی ۱۰۰ ریالی درست کرد ؟ (با

جدول)

۵- برای اندازه گیری جرم یک جعبه سیب آن را در یک کفه ی ترازو و در کفه ی دیگر یک وزنه ی ۲ کیلو گرمی و یک وزنه ی ۲۵۰ گرمی و یک وزنه ی ۱۰۰ گرمی قرار دادیم .
جرم این جعبه سیب چند گرم است ؟

۶- در کسر $\frac{7}{8}$ به ۷ و به ۸ می گویند .

۷- خمس عدد ۴۰ چند می شود ؟

ربع عدد ۱۲ چند می شود ؟

ثلث عدد ۱۵ چند می شود ؟

نصف عدد ۲۰ چند می شود ؟

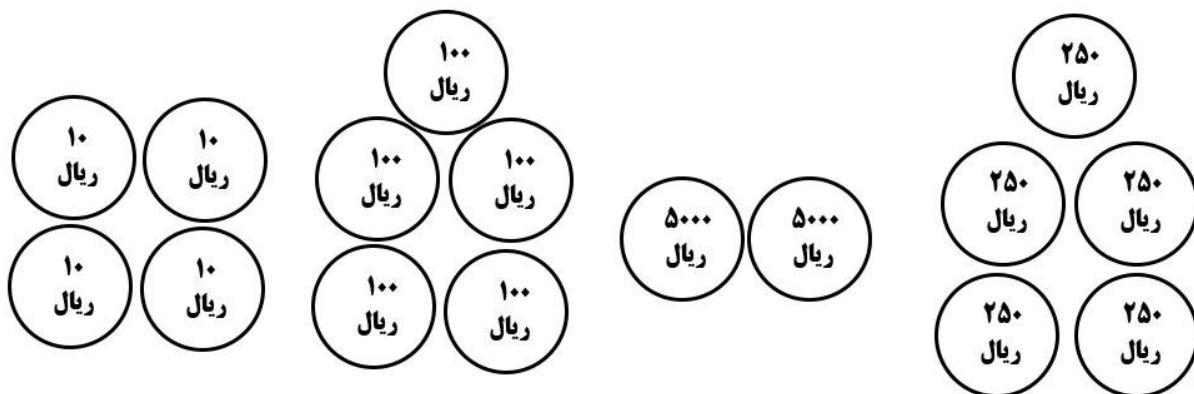
۸- جرم یک قوطی رنگ ۴۵۷ گرم است . اگر جرم قوطی خالی ۵۷ گرم اشد . جرم رنگ چقدر است ؟

۹- وزن ۵ بسته ی چای ۲۰۰ گرمی چقدر است ؟

۱۰۰۰ گرم چند تا ۱۰۰ گرم است ؟

۳ کیلو گرم چند تا ۱۰۰ گرم است ؟

۱۰- ارزش سکه های هر قسمت را به تومان بنویسید ؟



..... تومان تومان تومان تومان

۱۱- عدد های زیر را در جدول ارزش مکانی گذاشته سپس با عدد و حروف بنویسید .

الف (۶ دسته ی هزار تایی و ۲ دسته ی صد تایی و ۹ دسته ی ده تایی و ۷ یکی

یکان	دهگان	صدگان	هزارگان

به عدد :

به حروف :

ب) ۸ دسته ی هزار تایی و ۷ دسته ی صد تایی و ۳ یکی .

هزارگان	صدگان	دهگان	یکان

به عدد :

به حروف :

۱۲- پسرم ؛ از درس آواز گنجشک تمام کلمات جمع را پیدا کن و سپس مفرد آن را بنویس .

۱- هر یک از ضرب های زیر را انجام دهید .

$$۳ \times ۵ =$$

$$۸ \times ۳ =$$

$$۹ \times ۷ =$$

$$۱۰ \times ۱۰ =$$

$$۵ \times ۶ =$$

$$۹ \times ۱ =$$

$$۴ \times ۷ =$$


$$۳ \times ۴ =$$

۲- تساوی ضرب زیر را روی محور انجام بده .

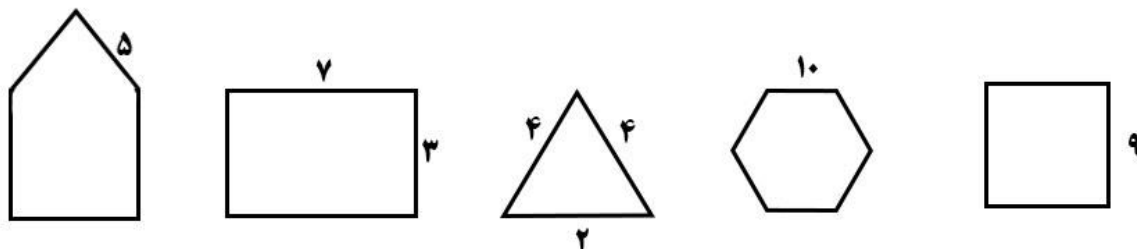
$$۴ \times ۶ = ۶ \times ۴$$

۳- خط تقارن شکل های زیر را رسم کن .





۵- محیط شکل روبرو را به دست بیاورید .



۶- منظور از مواد نگهدارنده در بدن چیست ؟ آیا این مواد برای بدن ضرر دارد ؟

۷- خوردن غذا در کدام وعده ، اهمیت بیشتری دارد ؟

(الف) صبحانه (ب) ناهار (ج) عصرانه (د) شام

۸- هوا چه حالتی از ماده است ؟

۹- کدام ماده ی زیر با حرارت دادن به گاز تبدیل می شود ؟

الف (آجر) ب (آب) ج (سنگ) د (آهک)

۱۰- به تبدیل یک ماده از حالت مایع به گاز چه می گویند ؟

الف (تبخیر) ب (ذوب) ج (انجماد)

۱۱- به تبدیل یک ماده از حالت مایع به جامد چه می گویند ؟

الف (تبخیر) ب (ذوب) ج (انجماد)

۱۲- یک بستنی را از یخچال در می آوریم و در هوای اتاق می گذاریم . چه تغییر حالتی

رخ می دهد ؟

الف (تبخیر) ب (ذوب) ج (انجماد)

۱۳- انسانها از گازها چه استفاده هایی می کنند ؟

۱۴ - چه مواد غذایی را در جای خشک ؛ چه مواد غذایی را در جای سرد و چه مواد غذایی را در جای خشک و سرد نگه می دارند ؟

۱۵ - هم معنی کلمات زیر را بنویسید .

عظمت : عادت : قنادی : اطراف :

۱۶ - درباره ی فصل بهار سه بند بنویس .

۱- با کلمه های زیر جمله های زیبا بساز .

ثبت نام :

احساس :

دروازه :

آلودگی صوتی :

جنگل :

۲- با دیدن کلمه های زیر یاد چه چیزهایی می افتی . (برای هر کدام ۳ مورد)

شهر :

معلم :

خانواده :

بهار :

۳- کدام ورزش را بیشتر دوست داری؟ درباره ی آن دو بند بنویس.

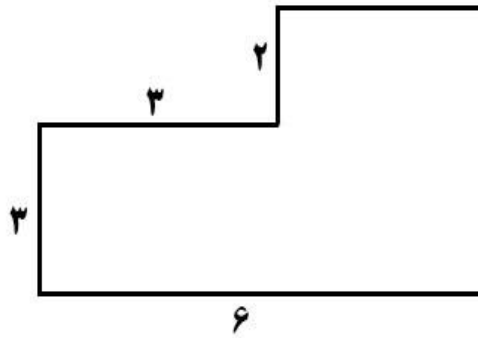
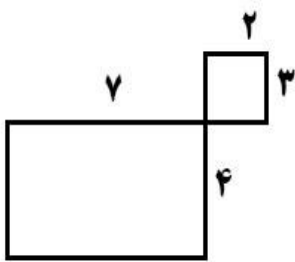

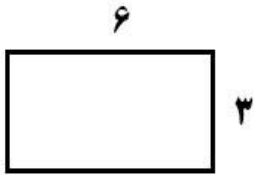
۴- جمع ها و تفریق های زیر را به صورت فرایندی انجام بده.

$$\begin{array}{r} 4320 \\ + 3493 \\ \hline \end{array}$$

$$\begin{array}{r} 6728 \\ - 4931 \\ \hline \end{array}$$

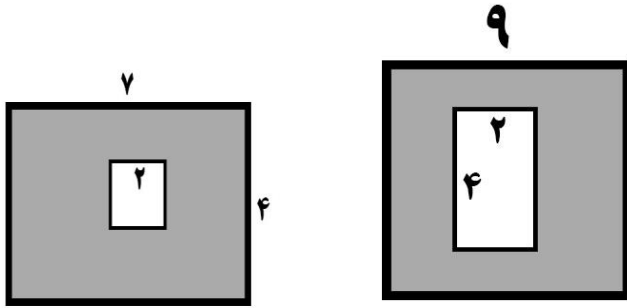
$$\begin{array}{r} 7428 \\ - 2393 \\ \hline \end{array}$$

۵- مساحت شکل های زیر را به دست آورید .



۶- توضیح دهید که مساحت یک مستطیل و یک مربع را چگونه به دست می آورید ؟

۷- مساحت قسمت رنگی را پیدا کن .



۸- حضرت محمد صلی الله علیه و آله و سلم پیش از به دنیا آمدن خود را از دست داد و در بزرگسالی به معروف شد .

- الف (پدر ، مهربانی)
- ب (مادر ، مهربانی)
- ج (پدر ، امین)
- د (مادر ، امین)

۱- هر کلمه را به شکل مفرد (یکی) بنویس .

شنودگان :

لیوان ها :

اثرات :

دشمنان :

۲- به کلمه های زیر (ات - ها - ان) اضافه کن و بنویس .

قطعه + =

فرشته + =

اختراع + =

حشره + =

ستاره + =

پدر + =

اطلاع + =

مسابقه + =

کلاس + =

۳- جاهای خالی را با استفاده از کلمات مناسب کامل کنید .

الف - اگر مواد جامد ، به اندازه ی کافی شوند به مایع تبدیل می شوند . (مثل : یخ به آب)

ب - تبدیل مواد جامد به مایع را می گویند و تبدیل مواد مایع به گاز را

می گویند .

ج - هنگام اتو کردن لباس خیس اتفاق می افتد .

د - اگر گازها به اندازه ی کافی شوند ، به مایع تبدیل می شوند . (مثل : بخار آب به آب)

هـ - اگر مواد مایع به اندازه کافی سرد شوند به تبدیل می شوند . (مثل آب به یخ)

و - تبدیل آب به یخ را می گویند .

ز - معمولاً در هوا مقداری وجود دارد ، ولی دیده نمی شود .
ح - برای خشک کردن میوه ها ، آب درون آنها می شود .

۴- خداوند حضرت ابراهیم را برای هدایت مردم سرزمین فرستاده بود .
نمرود پادشاه قدرتمند سرزمین بود .

۵- در روز عاشورا دشمنان امام حسین علیه السلام چگونه با کودکان رفتار می کردند ؟

۶- نام مادر ؛ پدر ، خواهر ، برادر ، پسران امام حسین علیه السلام را بنویسید .

۷- علی ۳۵۶۰ تومان پول داشت . او یک دفترچه به قیمت ۱۳۵۰ تومان و یک تراش به قیمت ۸۹۰ تومان خرید . علی چند تومان پول خرج کرده ؟ چند تومان برایش مانده است ؟ (به صورت فرایندی)

۸- یک عدد چهار رقمی بنویسید که رقم یکان آن بزرگترین عدد فرد و رقم صدگان آن بزرگترین عدد زوج و رقم دهگان آن ۷ باشد . رقم هزارگان آن باشد .

۹- در یک کلاس سه ردیف نیمکت و در هر ردیف ۶ نیمکت وجود دارد . در ۲ ردیف چند نیمکت وجود دارد ؟ در سه ردیف چند نیمکت وجود دارد ؟

۱۰- احمد برای خرید به مغازه ای رفت . او ۲ عدد دفتر ، ۳ عدد لامپ ، ۱ بسته ژله ، ۲ بسته ماکارونی خرید . هنگام تسویه ۹۰۰۰ تومان به فروشنده داد . فروشنده ۲۰۰۰ تومان به او پس داد . اگر قیمت هر بسته ژله ۱۷۰۰ تومان ؛ هر دفتر ۷۵۰ تومان ؛ هر عدد لامپ ۱۱۲۰۰ تومان باشد . قیمت هر بسته ماکارونی چند تومان بوده است ؟

۱۱- حسین و پدرش روی هم ۵۷ سال دارند . اگر حسین ۵ سال بعد ۲۲ ساله شود پدرش ۵ سال بعد چند ساله می شود ؟

۱۲- فاصله های بسیار دور مانند فاصله ی تهران - شیراز را با واحدی به نام اندازه می گیریم و بهترین وسیله برای اندازه گیری جرم اجسام نام دارد .

۱- امام حسین و یارانش در چه روزی و در کجا شهید شدند؟

الف (دهم رمضان ، کربلا

ب (اول رمضان ، کوفه

ج (دهم محرم ، کربلا

د (اول محرم ، کوفه

۲- حضرت زینب دختر چه کسی بود و به چه صفتی معروف شده است؟

الف (حضرت محمد (ص) ، امانت داری

ب (حضرت علی (ع) ، امانت داری

ج (حضرت محمد (ص) ، صبور بودن

د (حضرت علی (ع) ، صبور بودن

۳- عبارت (یزید فکر می کنی چون ما را مانند اسیران به این جا آوردی ما خوار شدیم و تو

عزیز شدی؟)

کدام صفت حضرت زینب را نشان می دهد؟

الف (شجاعت ب (فداکاری ج (عبادت د (مهربانی

۴- با کلمه ی (شکر) ۲ جمله بنویس که هر جمله معنای متفاوتی داشته باشد .

جمله ی اول :

جمله ی دوم :

۵- داستان نیمه تمام زیر را در ۳ بند کامل کن .

روزی سینا از مدرسه به خانه برمی گشت . در راه پیر مرد نابینایی را دید که میخواست از
خیابان عبور کند ، ناگهان

۶- کامل کن .

..... می روم . تو او
ما شما ایشان

۷- چرخه ی آب را توضیح دهید .

۸- برای هر کسر شکل بکش .

۶
—
۱۰
۵
—
۸
۲
—
۴
۳
—
۷

۹- در یک کفه ی ترازو یک کیسه شکر گذاشتیم . در کفه ی دیگر ۲ وزنه ی ۵ کیلویی و یک وزنه ی ۱۷۵ گرمی قراردادیم . برای میزان شدن ترازو یک وزنه ی ربع کیلویی روی کیسه ی شکر گذاشتیم . جرم کیسه ی شکر کیلو و گرم است .

۱۰- اگر هر دینار کشور عراق ۳۸۰۰ تومان باشد . آیا با ۵ دینار می شود یک توپ ۱۹۰۰۰ تومانی خرید ؟ چرا ؟

۱۱- گسترده ی یک مکعب را رسم کن .

۱۲- به کارهایی که نباید انجام دهیم می گویند .
وقتی می خواهیم سولات دینی خود را از کسی بپرسیم باید به مراجعه کنیم .
بچه ها با رسیدن به به مقام بزرگی دست پیدا می کنند .

۱۳- عبادت را تعریف کنید ؟

۱۴- اقیانوس را تعریف کنید ؟

۱- با کمک یک کره ی جغرافیایی به سولات زیر پاسخ دهید و تحقیق کنید .

الف - بیشتر کره ی زمین از آب پوشیده شده یا خشکی ؟

ب - کشور ما در نیمکره ی قرار گرفته است .

ج - نام دریاهایی که به ایران تعلق دارند را بنویسید .

د - نزدیکترین اقیانوس به ایران است .

۲- جرم کیف مدرسه ی سعید ۶۰۰ گرم کمتر از ۳ کیلو گرم است . جرم کیف سعید

..... کیلو گرم و گرم است .

۳- ایمان می خواهد با دوچرخه به خانه ی پدر بزرگش برود پس از طی ۳ کیلومتر دوچرخه اش

پنچر می شود او مجبور می شود دو کیلومتر از بقیه راه را پیاده برود . اگر ایمان با دوچرخه

ی پنچر به خانه برگردد چند کیلومتر پیاده راه رفته است ؟

۴- با رسم دایره ای به قطر ۶ سانتی متر دهانه ی پرگار را چند سانتی متر باز می کنیم ؟

۵- با رسم شکل نشان دهید که $\frac{1}{4} = \frac{2}{8} = \frac{4}{16}$ (روی یک شکل)

۶- عددی را با ۸ جمع کردیم و از حاصل ۸ تا کم کردیم چه عددی به دست آمد؟ چرا؟

۷- شعاع دایره ای ۱۲۸ سانتی متر است. قطر دایره چقدر است؟

۸- مساحت مستطیلی ۵۶ سانتی متر مربع است. اگر عرض آن ۷ سانتی متر باشد محیط

مستطیل چقدر است؟

۹- مساحت مربعی ۲۵ سانتی متر مربع است . محیط مربع چقدر است ؟

۱۰- محیط مثلث متساوی الساقین ۷۲ متر است . اگر اندازه ی هر ساق ۲۵ متر باشد ،
اندازه ی ضلع سوم چقدر است ؟

۱۱- نیرو را تعریف کنید و باعث چه کارهایی می شود ؟ با مثال .

۱۲- منظور از جذب و دفع آهن ربا چیست ؟ (دو قطب)

۱- ضرب داده شده را به حالت های داده شده بنویس .

د- با نوشتن

الف- بارسم شکل

ه- بارسم محور

ب- با کشیدن مستطیل

و- با روشی که دوست داری

ج- با شمارش

۲- ۴ جین جوارب و ۳ جین دستکش روی هم چند تا است ؟ (هر جین ۶ عدد)

$$(\dots \times \dots) + (\dots \times \dots) =$$

۳- نیما ۹ سال دارد . سن برادرش از ۴ برابر سن او ۵ سال کمتر است ، برادر نیما چند سال دارد ؟

۴- علامت (< = >) بگذار .

خمس $\frac{1}{2}$

۲ واحد و $\frac{7}{10}$ واحد

۲ واحد و $\frac{3}{10}$ واحد

$$5 + 0$$

$$5 \times 0 \text{ - ج}$$

$$3 \times 8$$

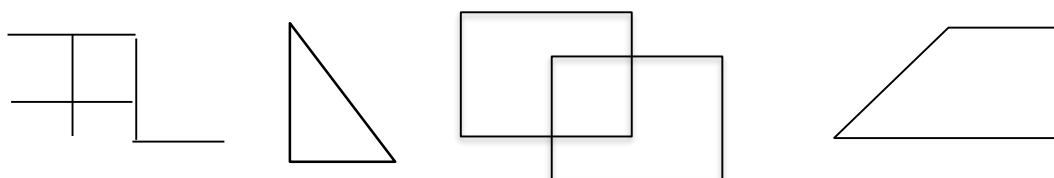
$$6 \times 4 \text{ - ب}$$

$$\frac{4}{5} \quad \frac{6}{5} \text{ - الف}$$

۵- کامران ۳ کیلومتر و ۲۷۵ متر دویده است . فرزین ۷۶۷ متر کمتر از ۴ کیلومتر دویده است .
کدام یک بیشتر دویده ؟ چقدر ؟

۶- قطر دایره ای ۱۸ سانتی متر است . شعاع دایره چقدر است ؟

۷- گوشه های راست را مشخص کن . برای تشخیص گوشه ی راست از وسیله ای به نام
استفاده می کنیم .



۸- با ۲۸ تومان می توانیم ۴ دکمه بخریم با ۵۶ تومان چند دکمه می توان خرید ؟

۹- اگر مسعود ۲۴ تومان دیگر داشته باشد می تواند پولش را بین ۶ نفر طوری قسمت کند که به

هر نفر ۹ تومان برسد اکنون پول مسعود چقدر است ؟

۱۰- اگر بخواهی با امام زمان صحبت کنی چه می گویی ؟

۱۱- کلمه ی (باز) در جمله ی زیر به چه معناست ؟

« باز قطرات شبنم روی گل نشستند »

الف- گشود ب- دوباره ج- دفعه د- نام پرنده

۱۲. کدام گزینه به ترتیب هم معنی ، هم خانواده و مخالف کلمه ی (ناقص) است ؟

الف- عیب دار ، نقص ، کامل ب- کامل ، عیب دار ، نقص

ج- نقص ، معیوب ، کامل د- معیوب ، عیب دار، کامل

۱۳. تصویر در آینه های برآمده ، فرورفته و تخت چگونه است و کاربرد آنها را بنویسید.

۱۴. شرایط لازم برای دیدن اجسام را بنویسید ؟

۱۵. مسلمانان کدام کار را در روز عید انجام نمی دهند ؟

الف- تبریک گفتن عید به یک دیگر ب- پذیرایی با شیرینی و شکلات

ج- خواندن نماز عید د- روزه گرفتن

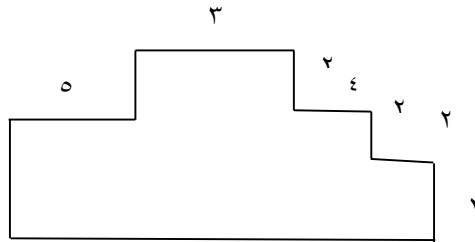
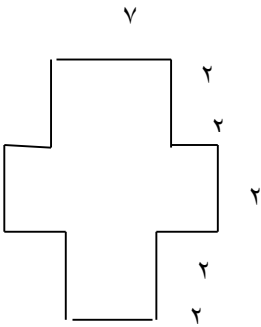
۱۶. پس انداز کردن چه فایده ای دارد؟

۱- جمع و تفریق داده شده را از فرایندی حل کن .

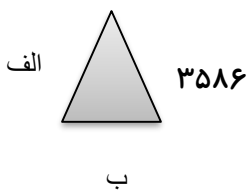
$$\begin{array}{r} 3726 \\ + 2589 \\ \hline \end{array}$$

$$\begin{array}{r} 8086 \\ - 2519 \\ \hline \end{array}$$

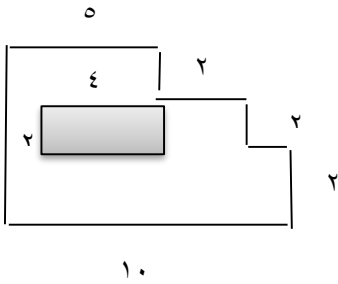
۲- مساحت هر شکل چقدر است ؟



۳- محیط مثلث متساوی الساقین روبه رو ۹۶۷۲ سانتی متر است . طول ضلع الف و ب چقدر است ؟



۴- مساحت قسمت هاشور زده را به دست بیاورید .



۵- تفاوت خانه های قدیم با جدید را بنویسید.

۶- تفاوت خانه ی عشایری با خانه ی ویلایی بنویسید .

۷- کدام یک از نیازهای ما در خانه برآورده نمی شود ؟

الف- عبادت خدا ب- آشنایی با مردم ج- استراحت د- آرامش

۸- هدف از هم کاری کارکنان مدرسه چیست ؟

۹- محرم و نامحرم را با مثال توضیح دهید ؟

۱۰- اهرم چیست ؟ با مثالی توضیح دهید؟

۱۱- آیا همه ی گیاهان گل دارند؟ مثال بزنید؟

۱۲- گیاهان با دانه های یک قسمتی و دو قسمتی را باهم مقایسه کنید؟ (ریشه ؛ برگ ؛ دانه)

۱۳- آب آشامیدنی چگونه تصفیه و قابل استفاده می شود؟

۱- سه ماه فصل بهار را بنویسید ؟

۲- در بین اسامی داده شده ی زیر ، دور اسامی خاص خط بکش .

ایران - مداد - عباس دوران - کتاب - حافظ - دریا

۳- به کدام دسته از کلمات زیر اگر (گاه) اضافه کنیم کلمه ی معناداری ساخته می شود ؟

الف- تزیین ، ایست ، دروازه ب- فرود ، دانش ، آموزش

ج- آرام ، مطمئن ، خاطره ، خاطره د- تعطیل ، موجود ، آرایش

۴- برای محور مقابل تساوی بنویسید .



$$\text{-----} \times \text{-----} = \text{-----} \times \text{-----}$$

۵- با هر دسته عدد دو تساوی ضرب و دو تساوی تقسیم بنویسید.

عملیات	۷ - ۳۵ - ۵	
ضرب		
تقسیم		

عملیات	۴ - ۲۸ - ۷	
ضرب		
تقسیم		

۶- در یک باغ میوه ۶ ردیف مساوی درخت انار داریم. اگر در این باغ ۴۸ درخت انار باشد در هر ردیف چند درخت انار وجود دارد؟

۷- کلمات هم معنی را مانند هم رنگ کنید.

شجاع	واقعه	مسدود	جاودانه
ماندگار	دلیر	حادثه	بسته شده

۸- در خمس گلدان ها گل بکش.



۹- ربع عدد ۱۶ می شود نصف عدد ۱۴ می شود

ثلث عدد ۲۱ می شود ربع عدد می شود ۱۰

خمس عدد ۲۰ می شود ثلث عدد می شود ۸

۱۰- چرا عشایر کوچ می کنند؟

۱۱- فصل بهار را با فصل پاییز مقایسه کن و بگو که کدام یک را بیشتر دوست داری. سپس یک

نقاشی زیبا از فصل مورد علاقه ی خود بکش.

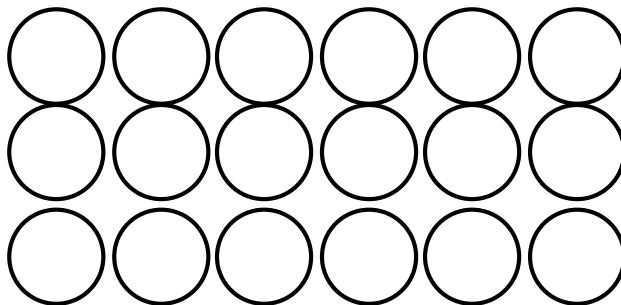
۱- حاصل عبارت های زیر را به دست آور.

$$(3 \times 7) + (4 \times 8) = \text{-----} + \text{-----} = \text{-----}$$

$$(5 \times 6) - (2 \times 10) = \text{-----} - \text{-----} = \text{-----}$$

$$(8 + 2) \times (9 - 6) = \text{-----} \times \text{-----} = \text{-----}$$

۱- شکل مقابل را به صورت های مختلف دسته بندی کن و برای هر کدام یک ضرب بنویس.

	--- x --- = ---
	--- x --- = ---
	--- x --- = ---
	--- x --- = ---

۲- چند تا از مکان های تاریخی که در تعطیلات عید از آنها بازدید کردی، نام ببر.

۳- کامل کن.

گلدان یعنی جای

..... یعنی جای قند.

شمع دان یعنی جای..... .

نیازمند یعنی کسی که..... دارد.

دردمند یعنی کسی که دارد.

۴- جمع و تفریق های زیر را از راه فرایندی به دست بیاورید.

$$\begin{array}{r} 3546 \\ + 2321 \\ \hline \end{array}$$

$$\begin{array}{r} 6489 \\ - 2358 \\ \hline \end{array}$$

۵- برای مقایسه ی ۲ عدد چهار رقمی چه باید کرد؟

۶- گزارش مختصری از روز طبیعت (۱۳ فروردین) تهیه کرده و بنویسید.

۷- آرزوهای خود را در سال ۱۳۹۶ بنویسید.

ولی محترم دانش آموز

لطفا نظرات؛ پیشنهادات و انتقادات خود را در مورد پیک نروزی یادداشت بفرمایید.

با تشکر از همکاری و راهنمایی شما

پسرم! صفحه ی پایانی پیک نوروزی خود را به صورت زیبایی تزئین کن.